

Eindtoets voor ouders 2010

Eindtoets Basisonderwijs
Groep 8

Cito heeft dit opgavenboekje gemaakt om ouders te informeren over de inhoud van de Eindtoets Basisonderwijs. De opgaven zijn eerder gepubliceerd in de Eindtoets Basisonderwijs 2009. De scholen zijn vrij om van dit boekje kopieën te maken.



zeker weten

Taal

1 Panische apen komen niet van hun rots

2 Het kan een drijvende stronk zijn geweest of een
3 onbekend geluid. Het blijft gissen waarom de
4 120 mantelbavianen van Dierenpark Emmen
5 volledig in paniek zijn. Sinds maandag zitten ze,
6 dicht tegen elkaar, op een hoek van een rots.

7 Een woordvoester van het park noemt het
8 massahysterie. "Een baviaan uit de groep heeft
9 iets gehoord of gezien en de rest volgt de
10 paniekreactie. Zelfs als de verzorgers zwaaien
11 met bananen, blijven de bavianen op hun 'veilige
12 plaats'."

13 Die mysterieuze hysterie is niet nieuw in Emmen.
14 Ook in 1994 en 1997 sloeg de paniek toe op het
15 bavianeneiland. Toen klommen de apen in de
16 bomen en weigerden ze dagenlang naar beneden
17 te komen. De reden dat ze nu voor een rots
18 hebben gekozen, is volgens de woordvoester
19 simpel. "De bomen zijn wat versleten."

Opgave 1

Lees: "Een paniekreactie. (r. 8 t/m 10)

Wat past het **best** achter *paniekreactie*? (r. 10)

- | | |
|---------------|----------------|
| A blindelings | C tijdelijk |
| B naderhand | D weloverwogen |

De opgaven 2 en 3 bestaan uit vier zinnen.

De vraag is steeds:

In welke zin is het dikgedrukte woord fout gespeld?

Opgave 2

- A Dat is het **vreemste** verhaal dat ik ooit gehoord heb.
- B De **luchthaven** lag te dicht bij de stad.
- C Jouw perzik is veel **sappiger** dan die van mij.
- D Mijn oom doet altijd heel **gewichtig**.

Opgave 3

- A De minister **schatte** de kosten op drie miljoen.
- B Heb jij de vader van Jan en Marisa nog **gekent**?
- C Het ongeval **veroorzaakt** een lange file.
- D We **brachten** de verwaarloosde hond naar het asiel.

In opgave 4 gaat het om de betekenis van het dikgedrukte woord.

Opgave 4

Vul de zin aan.

Iemand die **neerslachtig** is, is ...

- | | |
|--------------------|-----------------------|
| A bang voor regen. | C in een sombere bui. |
| B heel erg moe. | D tegen geweld. |

Opgave 5 hoort bij de tekst die hieronder staat:

Lees eerst de tekst en maak dan de opgave.

Brenny (11) heeft een verhaal geschreven voor de schoolkrant. Hij moet het nog wel een keer goed nakijken en een paar dingen verbeteren.

50 De laatste vraag was: vond je het leuk op school?
51 Gelukkig vond mijn moeder het toch wel leuk,
52 desondanks de handenarbeidles. Ze zei dat het
53 heel gezellig was in de klas, er stonden veel
54 planten en er hingen posters en tekeningen aan
55 de muur. En meester Hoeven was eigenlijk best
56 aardig.

Opgave 5


Lees: *Gelukkig vond ... de handenarbeidles*. (r. 51, 52)

Wat kan Brenny het best doen met: *desondanks* (r. 52)?

- A Zo laten staan.
- B Vervangen door: dankzij
- C Vervangen door: met dank aan
- D Vervangen door: ondanks

Rekenen

Opgave 6



Hoeveel euro kost dit paar laarzen nu?

- A € 54,- C € 110,-
B € 102,- D € 126,-

Opgave 7

Floor en Joosje gaan samen uit. Floor betaalt het drinken: € 5,-. Joosje betaalt het eten: € 15,-. Ze willen de kosten samen delen.

Hoeveel moet Floor aan Joosje betalen?

- A € 5,- C € 12,50
B € 10,- D € 20,-

Opgave 8



Eva koopt vis op de markt. De vis weegt ongeveer $1\frac{1}{2}$ kilo. Ze moet € 12,05 betalen.

Hoeveel kost de vis dan ongeveer per kilo?

- A € 4,- C € 10,-
B € 8,- D € 18,-

Opgave 9




De puzzel van oma en opa heeft 2500 stukjes.

Ze hebben 750 stukjes gelegd.

Welk deel van de puzzel is dan klaar?

- A $\frac{3}{100}$ C $\frac{1}{3}$
B $\frac{3}{5}$ D $\frac{3}{10}$

Opgave 10



Chantal en Sjoerd plukken 50 kg kersen. Ze doen de kersen in bakjes van 250 gram.

Hoeveel bakjes van 250 gram kunnen ze in totaal vullen?

- A 5 C 200
B 20 D 2000

Ga door op de volgende bladzijde

Studievaardigheden

Opgave 11

Het klimaat verandert. Daar wordt op het ogenblik veel over gesproken.

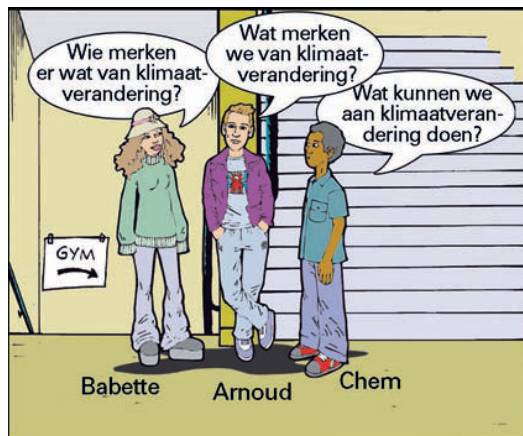
De ijskap van de Noordpool smelt en is in de afgelopen honderd jaar nooit eerder zo klein geweest.

Door de opwarming van de aarde blijft er steeds minder ijs over.

Vooral voor de ijsbeer heeft dat ingrijpende gevolgen. Dit dier is afhankelijk van het Noordpoolijs om te overleven. De invloed van de klimaatveranderingen is voor de ijsbeer heel zichtbaar. De ijsvlaktes zijn hun jachtgebied waar ze een deel van het jaar voedsel vinden en reserves opbouwen voor de zomer.

Het ijsoppervlak wordt kleiner, daardoor wordt ook hun jachtgebied kleiner en natuurlijk wordt ook hun jachtseizoen korter. De conditie van de beren verslechtert en dat is vooral ernstig voor jonge ijsberen, zwangere beren of beren met jongen. Er zijn de afgelopen jaren zelfs ijsberen verdronken. Deze dieren zijn uitstekende zwemmers, maar met een verzwakte conditie en een te grote afstand tussen ijs en land, waar hun prooi te vinden is, kan het zijn dat ze een zwemtocht niet overleven.

Bestudeer **bovenstaande tekst**.



Drie kinderen hebben een vraag over klimaatverandering.

Welk kind kan of welke kinderen kunnen deze tekst gebruiken om een antwoord op hun vraag te krijgen?

- A Arnoud
- B Arnoud en Babette
- C Arnoud en Chem
- D Babette en Chem
- E Alle drie

Opgave 12

Touria zoekt in een woordenboek het woord *karikatuur*. Ze maakt bij het opzoeken gebruik van de woorden die bovenaan iedere bladzijde staan.

Tussen welke twee woorden staat het woord *karikatuur*?

- A tussen 'karekiet' en 'kariboe'
- B tussen 'kariboe' en 'karig'
- C tussen 'karig' en 'karton'
- D tussen 'karton' en 'karwei'

Opgave 13
Website Archeologie

Wat is archeologie?

Sieraden en schedels, hunebed en helm, vlekken en verkleuringen. De bodem zit vol sporen uit het verleden. Ze vertellen allemaal iets over hoe onze voorouders leefden. Archeologie is het zoeken naar die sporen in de grond.

Wil je meer weten over archeologie en de geschiedenis ervan? [Klik hier](#)

Wil je archeoloog worden of je op een andere manier met archeologie bezighouden? [Klik hier](#)

Wil je vondsten zien? [klik hier](#)

Archeologen aan het werk

Archeologen gaan niet zomaar graven. Eerst doen ze onderzoek. En na het graven wacht ze nog een flinke klus. Meer weten? [klik hier](#)

A ————— [Klik hier](#)

B ————— [Klik hier](#)

C ————— [klik hier](#)

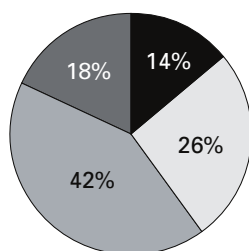
D ————— [klik hier](#)

Boy wil weten wanneer mensen voor het eerst begonnen zijn om in de grond te graven naar sporen van het verleden.
Waar kan hij nu het best klikken?

Kies A, B, C of D.

Opgave 14
Hoe vaak wast u uw auto?

- bijna nooit
- ongeveer vier keer per jaar
- minstens eenmaal per maand
- bijna elke week



De leerlingen van groep 8 van basisschool 'De Triangel' hebben zaterdag in het winkelcentrum gevraagd hoe vaak de mensen hun auto wassen.

Welke uitspraak is juist?

Ongeveer een kwart van de ondervraagden wast de auto ...

- A bijna nooit.
- B ongeveer vier keer per jaar.
- C minstens eenmaal per maand.
- D bijna elke week.

Opgave 15
Ierland



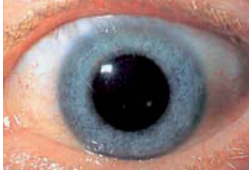
“Ik woon in een gebied waar veel graan en bieten worden verbouwd. Vanuit mijn huis kijk ik uit over de Atlantische Oceaan.”

Waar woont Donovan?

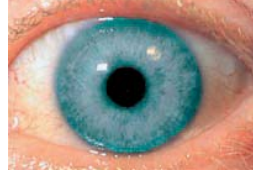
- A in Athlone
- B in Portrush
- C in Rosslare
- D in Westport

Wereldoriëntatie

Opgave 16 Pupillen



oog van Koen



oog van Pauline

De pupil in het oog van Koen ziet er anders uit dan die in het oog van Pauline.

Waarmee heeft dat verschil te maken?

- A Koen is een jongen en Pauline is een meisje.
- B Koen kijkt door een leesbril en Pauline niet.
- C Koen kijkt in het donker en Pauline in het licht.
- D Koen kijkt naar iets dat dichtbij is en Pauline kijkt in de verte.

Opgave 17 Huisspitsmuis



Tussen 1967 en 1982 werd in de Achterhoek onderzocht welke dieren in de herfst door kerkuilen gegeten werden. De kerkuil bleek vooral veldmuizen te eten. Uit nieuw onderzoek in de herfst van 2001 bleek dat de huisspitsmuis het belangrijkste voedsel was geworden van kerkuilen.

Op welke manier zijn de onderzoekers dit te weten gekomen?

- A door 's avonds en 's nachts met een verrekijker de kerkuilen in de gaten te houden
- B door de inhoud van de braakballen van de kerkuilen te bekijken
- C door in de herfst het aantal huisspitsmuizen te tellen
- D door te onderzoeken wat huisspitsmuizen eten

Opgave 18 Stad aan het water



Welke stad en welk water zie je?

- A Amersfoort aan de Barneveldse Beek
- B Nijmegen aan de rivier de Waal
- C Enkhuisen aan het IJsselmeer
- D Den Haag aan de Noordzee

Opgave 19
Uit de TV-gids

- 22.34 Sesjun**
Serie muziekprogramma's;
afl.: 'The Texas Guitar
Singers'
- 23.12 Socutera**
- 23.55 NOS-Studio Sport**
- ca. 23.30 NOS-Journaal**
- 1.55-6.30 WK Allround schaatsen;**
rechtstreekse beelden van
de WK allround schaatsen
in Nagano Japan.

Waarom was de uitzending van de wereldkampioenschappen schaatsen 's nachts?

- A Er is overdag geen tijd meer vrij op de televisie om de schaatswedstrijd uit te zenden.
- B Het is in Japan al dag als het in Nederland nog nacht is.
- C Het is in Japan alleen 's nachts koud genoeg om te kunnen schaatsen.
- D In Japan worden belangrijke sportwedstrijden altijd 's nachts uitgezonden, omdat de meeste Japanners pas laat van hun werk thuis komen.

Opgave 20
Oude gebouwen



1



2



3



4

In veel steden vind je gebouwen uit de late middeleeuwen van 1200-1500 (tijd van steden en staten).

Welke gebouwen zijn in die tijd gebouwd?

- A 1 en 3
- B 1 en 4
- C 2 en 3
- D 2 en 4

Einde van deze toets

Primair onderwijs

Leerling- en onderwijsvolgsysteem

Eindtoets voor ouders

Eindtoets Basisonderwijs

Groep 8

Lijst van goede antwoorden

1	A	11	B
2	A	12	C
3	B	13	A
4	C	14	B
5	D	15	B
6	A	16	C
7	A	17	B
8	B	18	B
9	D	19	B
10	C	20	A

Cito

Nieuwe Oeverstraat 50
Postbus 1034
6801 MG Arnhem
T (026) 352 11 11
F (026) 352 13 56
www.cito.nl

Klantenservice

T (026) 352 11 11
F (026) 352 11 35
klantenservice@cito.nl

Fotografie: Ron Steemers

